











La famille de 90. Les nombres de 90 à 99.

90	<p>quatre-vingt-dix</p> <p><i>quatre-vingt-dix</i></p> <p>80+10=90</p>	 <p> $10+10+10+10+10+10+10+10+10+0 = 90$ $90+0=90$ $20+20+20+20+10+0=90$ 9 dizaines et 0 unité </p>
91	<p>quatre-vingt-onze</p> <p><i>quatre-vingt-onze</i></p> <p>80+11=91</p>	 <p> $10+10+10+10+10+10+10+10+10+1 = 91$ $90+1=91$ $20+20+20+20+10+1=91$ 9 dizaines et 1 unité </p>
92	<p>quatre-vingt-douze</p> <p><i>quatre-vingt-douze</i></p> <p>80+12=92</p>	 <p> $10+10+10+10+10+10+10+10+10+2 = 92$ $90+2=92$ $20+20+20+20+10+2=92$ 9 dizaines et 2 unités </p>
93	<p>quatre-vingt-treize</p> <p><i>quatre-vingt-treize</i></p> <p>80+13=93</p>	 <p> $10+10+10+10+10+10+10+10+10+3 = 93$ $90+3=93$ $20+20+20+20+10+3=93$ 9 dizaines et 3 unités </p>
94	<p>quatre-vingt-quatorze</p> <p><i>quatre-vingt-quatorze</i></p> <p>80+14=94</p>	 <p> $10+10+10+10+10+10+10+10+10+4 = 94$ $90+4=94$ $20+20+20+20+10+4=94$ 9 dizaines et 4 unités </p>
95	<p>quatre-vingt-quinze</p> <p><i>quatre-vingt-quinze</i></p> <p>80+15=95</p>	 <p> $10+10+10+10+10+10+10+10+10+5 = 95$ $90+5=95$ $20+20+20+20+10+5=95$ 9 dizaines et 5 unités </p>
96	<p>quatre-vingt-seize</p> <p><i>quatre-vingt-seize</i></p> <p>80+16=96</p>	 <p> $10+10+10+10+10+10+10+10+10+6 = 96$ $90+6=96$ $20+20+20+20+10+6=96$ 9 dizaines et 6 unités </p>
97	<p>quatre-vingt-dix-sept</p> <p><i>quatre-vingt-dix-sept</i></p> <p>80+17=97</p>	 <p> $10+10+10+10+10+10+10+10+10+7 = 97$ $90+7=97$ $20+20+20+20+10+7=97$ 9 dizaines et 7 unités </p>
98	<p>quatre-vingt-dix-huit</p> <p><i>quatre-vingt-dix-huit</i></p> <p>80+18=98</p>	 <p> $10+10+10+10+10+10+10+10+10+8 = 98$ $90+8=98$ $20+20+20+20+10+8=98$ 9 dizaines et 8 unités </p>
99	<p>quatre-vingt-dix-neuf</p> <p><i>quatre-vingt-dix-neuf</i></p> <p>80+19=99</p>	 <p> $10+10+10+10+10+10+10+10+10+9 = 99$ $90+9=99$ $20+20+20+20+10+9=99$ 9 dizaines et 9 unités </p>

Je sais ma leçon si :

je sais lire, écrire ces nombres dans le désordre en chiffres,
 je sais effectuer tous ces calculs,
 je sais dessiner ces nombres en groupant en dizaines et unités,
 Je sais compter de 0 à 99 et de 99 à 0.