

Correction des exercices du vendredi 3 avril.

Rituel de la date.

jeudi 2 avril

vendredi 3 avril

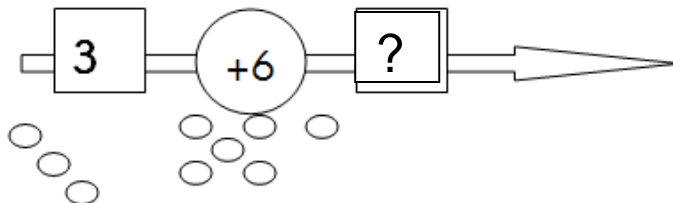
samedi 4 avril

Calcul.

Correction de la série (261)

$2 + 9 = 11$	$6 + 4 = 10$	$5 + 1 = 6$	$3 + 5 = 8$	$5 + 10 = 15$
$4 + 9 = 13$	$6 + 1 = 7$	$1 + 8 = 9$	$0 + 1 = 1$	$5 + 7 = 12$
$5 + 0 = 5$	$8 + 5 = 13$	$1 + 6 = 7$	$0 + 5 = 5$	$3 + 4 = 7$
$2 + 2 = 4$	$9 + 2 = 11$	$5 + 6 = 11$	$9 + 2 = 11$	$4 + 9 = 13$

Problème 5.



$$3 + 6 = 9$$

Le maître a maintenant 9 feutres.

Gafi P. 60 et 61.

1- Je vois le mot vélo 9 fois. Je vois le mot vélos 1 fois.

3 – le grand bi - le VTT - le vélo de course –


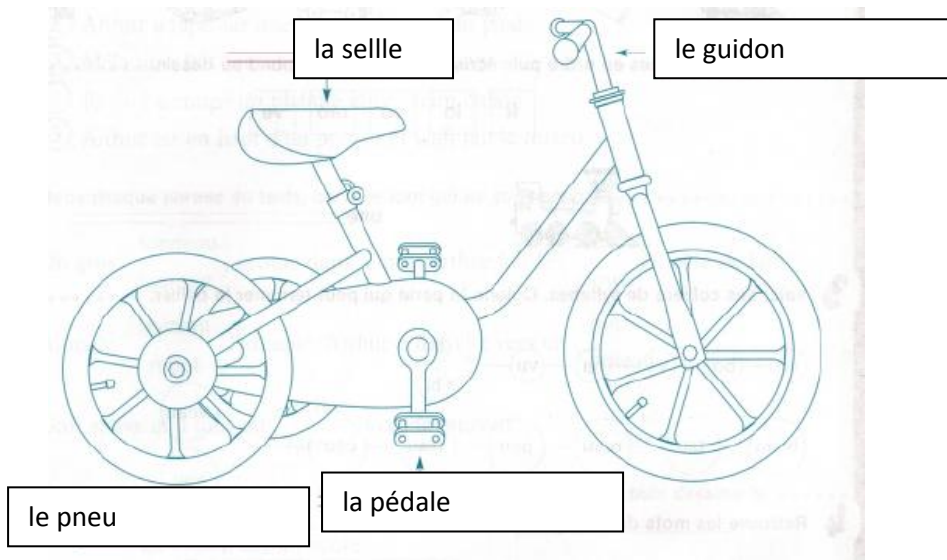
4 - Le vélo de course n'est pas lourd du tout.

La décuplette est un vélo pour 10 !

On roule partout avec un VTT. *Vélo Tout Terrain*

Le tricycle est un vélo pour les petits.

5 – Il fallait entourer : la selle – la pédale – le guidon –



Fichier de maths p.90.

1 pièce de 2 euros vaut 2 pièces de 1 euro.

1 billet de 5 euros vaut 2 pièces de 1 euro.

1- Max : 8€ Tom : 7€


Lila : 8€ Eva : 8€

Max, Lila et Eva ont dépensé autant d'argent.

Date: _____

A Des objets vus du dessus

- 1 ✎ Dessine la forme de ta gomme : pose-la ici et traces-en les contours.



Selon la forme de la gomme.

- 2 ✎ Relie à la bonne réponse.

Ce taille-crayon vu du dessus est

- un rectangle
- un rond



- 3 ✎ Entoure ta table vue du dessus.

