

Jeudi 9 avril.

Rituel de la date.

Directement sur ton cahier, en t'aidant du calendrier d'avril, écris la date d'hier. Saute une ligne, écris la date d'aujourd'hui. Saute encore une ligne et écris la date de demain. Quotidiennement, coche sur le calendrier la date du jour.



Top chrono : 20 calculs en 1 minute !

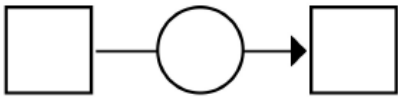
(610)

Tables d'addition de 1 à 8

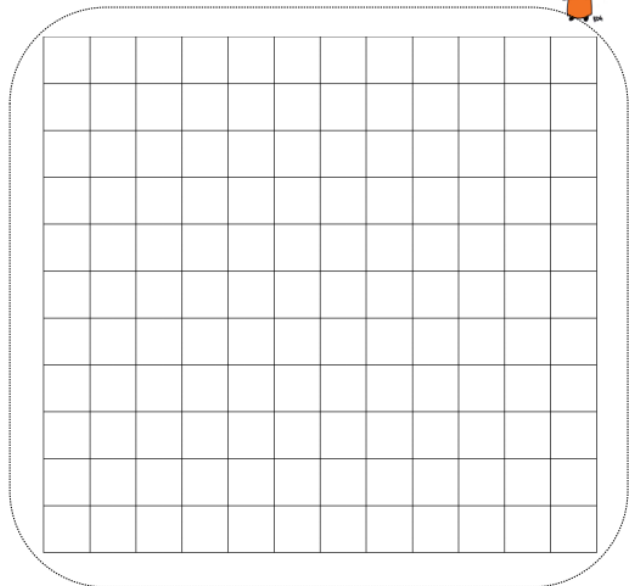
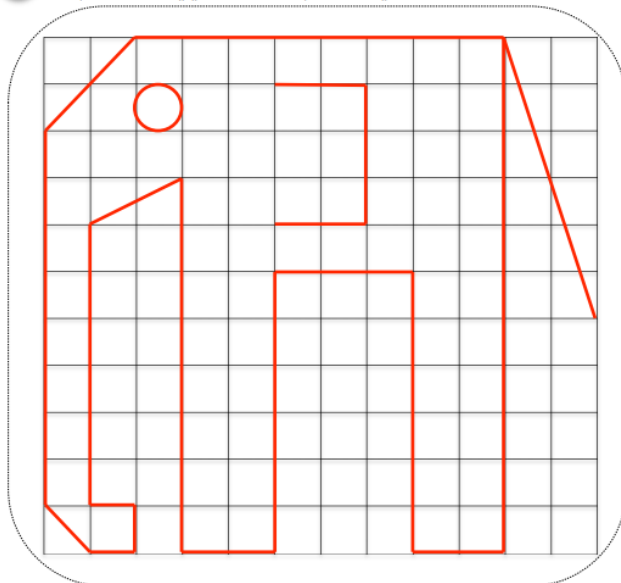
$1 + 6 = \underline{\quad}$	$0 + 4 = \underline{\quad}$	$8 + 9 = \underline{\quad}$	$7 + 7 = \underline{\quad}$	$1 + 0 = \underline{\quad}$
$4 + 9 = \underline{\quad}$	$8 + 6 = \underline{\quad}$	$4 + 3 = \underline{\quad}$	$4 + 8 = \underline{\quad}$	$2 + 2 = \underline{\quad}$
$7 + 4 = \underline{\quad}$	$1 + 6 = \underline{\quad}$	$8 + 6 = \underline{\quad}$	$10 + 7 = \underline{\quad}$	$8 + 10 = \underline{\quad}$
$2 + 0 = \underline{\quad}$	$8 + 4 = \underline{\quad}$	$3 + 9 = \underline{\quad}$	$9 + 4 = \underline{\quad}$	$7 + 7 = \underline{\quad}$

Problème 7.

Il y a 1 garçon dans la classe. 9 garçons arrivent. Combien y a-t-il de garçons maintenant dans la classe ?



1 Reproduis la figure sur le quadrillage à côté.





1. Colle les images au bon endroit

face

dos

profil





dessus

dessous

Étiquettes exercice p1



